







1) Associe chaque étiquette avec un objet.

TAILLE

PRIX

CONTENANCE



POIDS

VITESSE

DURÉE

2) Quel instrument vas-tu utiliser pour mesurer :

- La distance entre Marseille et Bordeaux. ♦
- La durée d'un match de basket. ♦
- Un triangle sur ton livre de math. ♦
- Les étagères que Papi fabrique pour Mamie. ♦
- Le poids de ton cartable. ♦
- Une course à la piscine avec un copain. ♦
- ♦ Une montre
- ♦ Un chronomètre
- ♦ Une carte
- ♦ Une règle
- ♦ Un mètre
- ♦ Une balance

3) Attribue à chaque mesure l'unité qui lui convient.

- ♦ Le vélo de Pierrot pèse 14 .....
- ♦ Le voyage jusqu'à Paris a duré 8.....
- ♦ Perrine mesure 5 ..... de moins que son frère.
- ♦ Ce jeu vidéo coûte 15 .....

