


Consigne : Faire correspondre un énoncé et un schéma.


Entoure le dessin qui correspond au problème.

- Jérémy, Romain et Raphaëlle vont à la pêche. Romain attrape 8 poissons, Jérémy en prend 2 de plus que Romain et Raphaëlle en pêche 3 de moins que Jérémy. Combien de poissons les 3 amis ont-ils rapportés ?


Dessin n°1



Poissons de Jérémy
8




Poissons de Romain
10




Poissons de Raphaëlle
5

Nombre total de poissons = 23

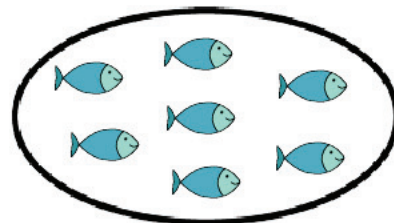
Dessin n°2



Poissons de Jérémy
8



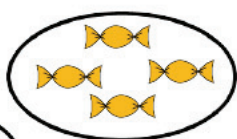
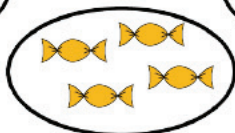
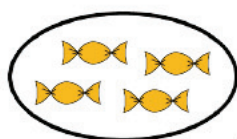
Poissons de Romain
10



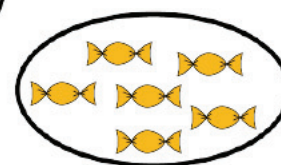
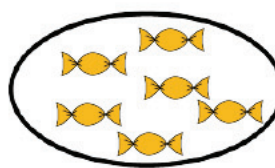
Poissons de Raphaëlle
7

Nombre total de poissons = 25

- Sylvain a un paquet de 12 bonbons. Il le partage avec ses deux amis, Florian et Christine. Combien de bonbons chaque enfant aura-t-il ?



Chaque enfant aura 4 bonbons.



Chaque enfant aura 6 bonbons.